

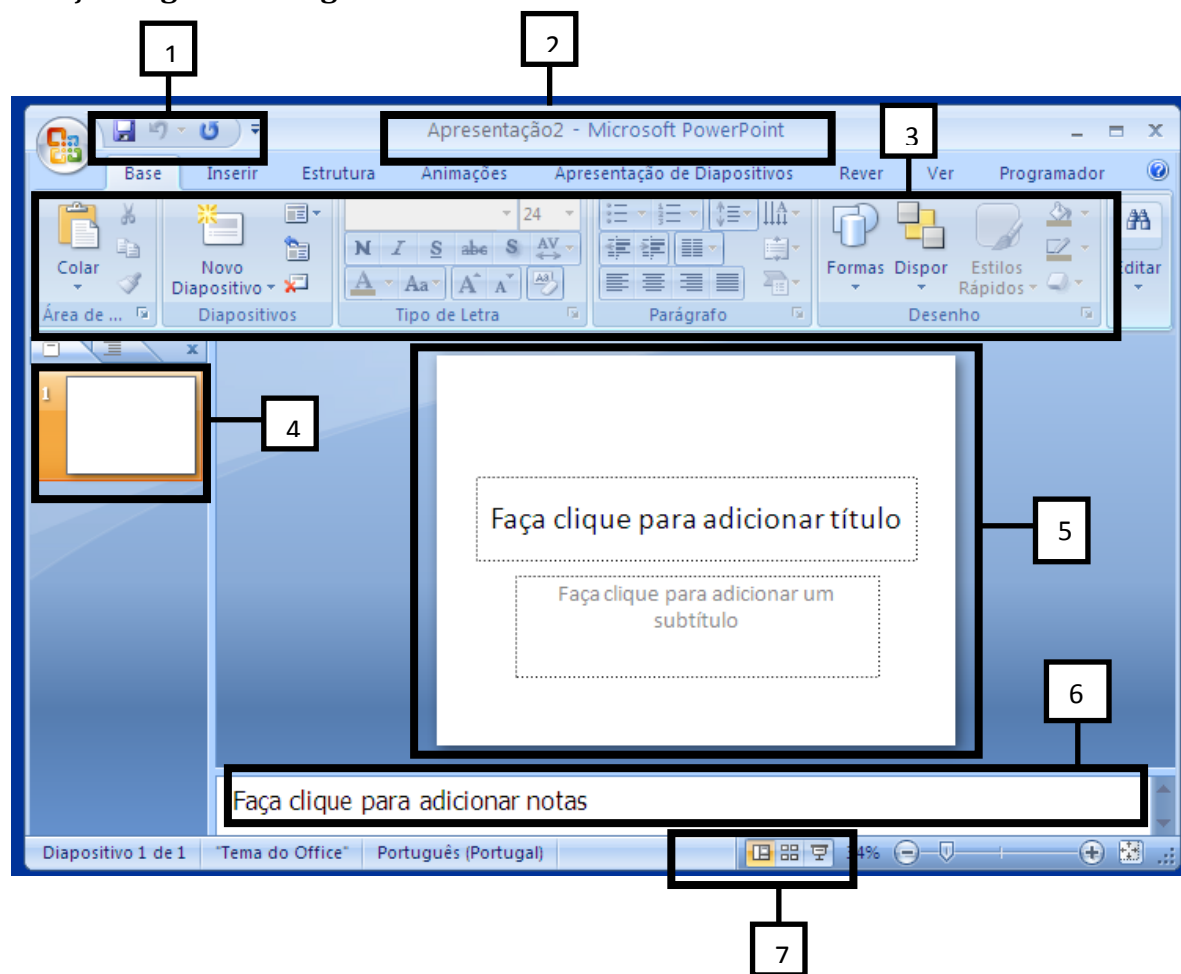


# Agrupamento de Escolas de Pevidém

Lectivo Ano 2013/2014  
Tecnologias de Informação e Comunicação - 7º ano

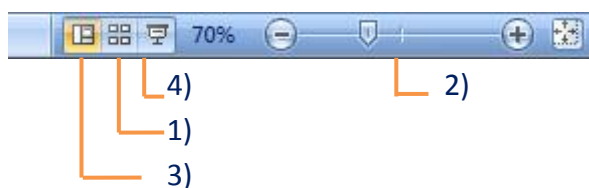
## PowerPoint - Ficha nº 2

### 1. Faça a legenda da figura.




- |          |          |
|----------|----------|
| 1- _____ | 2- _____ |
| 3- _____ | 4- _____ |
| 5- _____ | 6- _____ |
| 7- _____ |          |

2. Estabelece a correspondência entre os números na figura nº2 e as letras que identificam as respetivas designações.



- |      |   |
|------|---|
| 1) d | a) Apresentação de diapositivos         |
| 2) b | b) Zoom                                 |
| 3) c | c) Vista normal                         |
| 4) a | d) Vista de organização de diapositivos |

3. Faça a legenda da seguinte barra



- 1- \_\_\_\_\_
- 2- \_\_\_\_\_
- 3- \_\_\_\_\_

**FIM**

**BOM TRABALHO!!**

(Nota: está atento às indicações da tua professora!)